



ポッコをつかまえよう！

あわせた時間



ポッコ
ことりポケモン
タイプ▶ノーマル・ひこう
たかさ▶0.3m
おもさ▶1.8kg

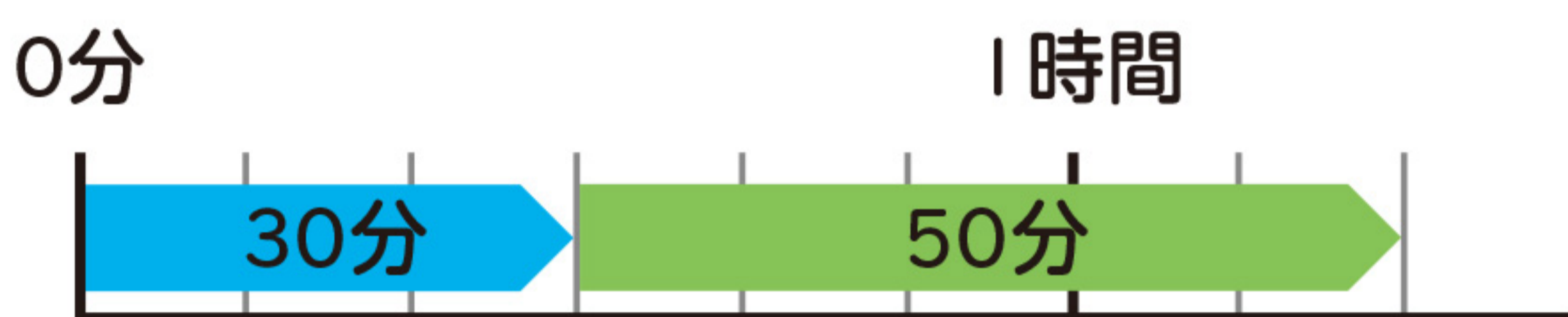
点
60点い上で
「クリア！
シール」を
はれるよ！

はじめにここを読もう！

もんだい
問題

ポッコをさがしに30分歩いて、イーブイをさがしに50分歩きました。
歩いた時間は、あわせて何時間何分ですか。

「あわせた時間」をもとめるときには、たし算を使います。



60分で「分」から
「時」のたんい
にくり上げるよ！

$$30\text{分} + 50\text{分} = 80\text{分}$$

答え

1時間20分

ヒント



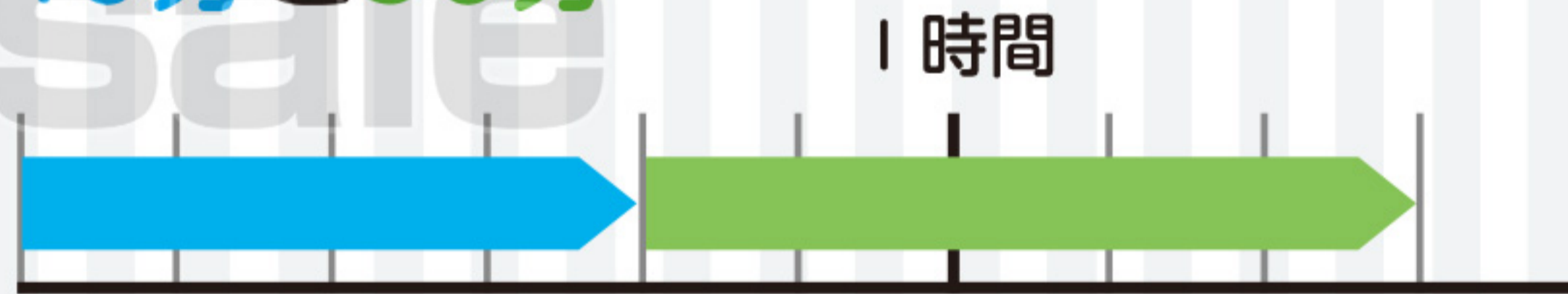
1 時間をあわせると何時間何分ですか。 ①② 10点 ③~⑥ 20点

① 30分と40分



時間 分

② 40分と50分



時間 分

③ 30分と45分

時間 分

④ 45分と45分

時間 分

⑤ ポッコが空を30分とび、
また1時間10分とびました。



時間 分

⑥ イーブイが15分走り、
50分歩きました。



時間 分

クリアした日

月 日



デリバードをつかまえよう!

おも 重さのたんい「g」

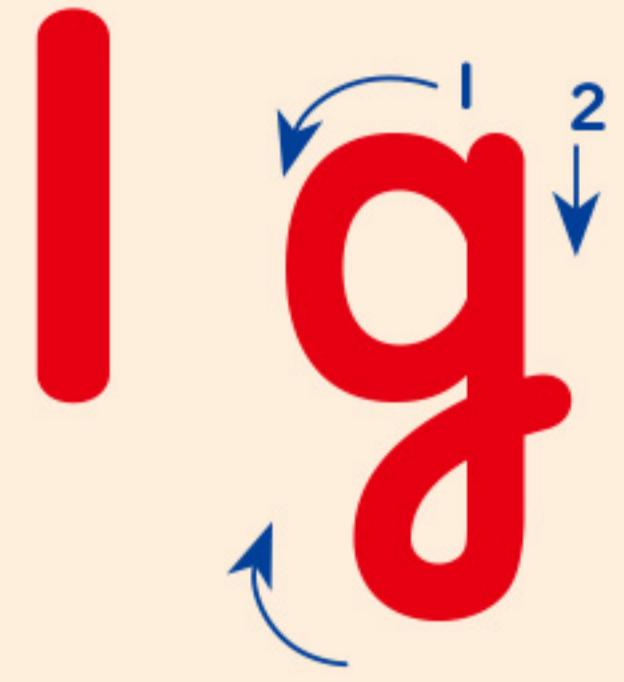


点
60点い上で「クリア! シール」をはれるよ!


はじめにここを読もう!

おも 重さを表すたんいにはグラムがあり、**g**と書きます。

書き方



1円玉1このおも重さは1gです。




1円玉5こ

えん筆の重さを、1円玉を使って調べると1円玉5こ分でした。

このえん筆の重さは **5g** です。

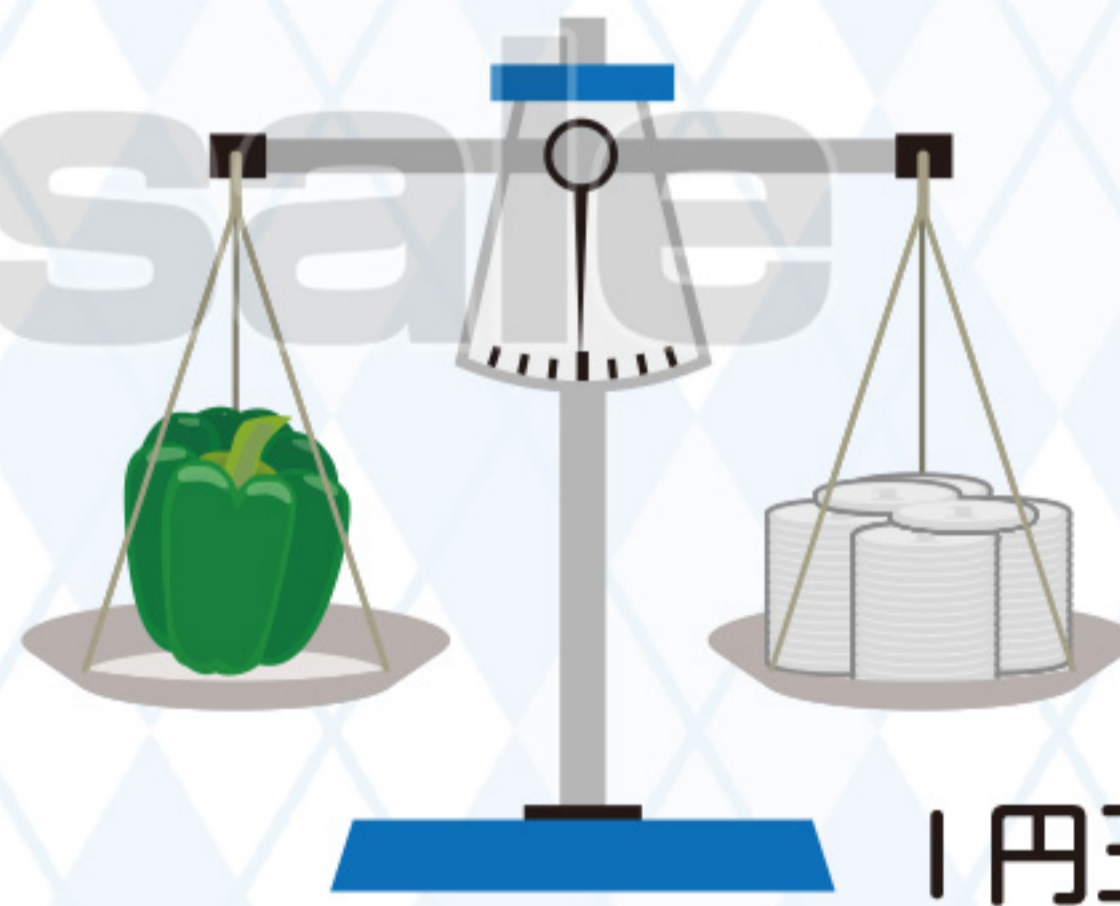
1 図を見て、左の皿に入っているものの重さを、「g」を使って答えましょう。1もん 20点

①



1円玉15こ

②



1円玉42こ

2 にあてはまる数を書きましょう。1もん 20点

① 1円玉50こ分のおも重さは gです。

② 1円玉200こ分のおも重さは gです。

③ 1円玉100こ分は、1円玉30こ分よりも g重いです。

デリバード

はこびやポケモン
タイプ▷こおり・ひこう
たかさ▷0.9m
おもさ▷16.0kg



クリアした日

月

日