




サシカマスをつかまえよう!

長さのたんい「cm」



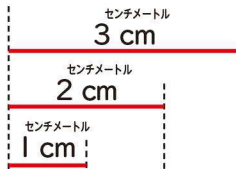

てん点
60点以上で「クリア! シール」をはれるよ!

はじめにここを読もう!

なが長さをあらわすたんいに、センチメートルがあります。

センチメートルは cm と書きます。

か書き方



なが長さは 1 cm が いくつぶんあるかであらわします。

1 □ にあてはまるなが長さをこたえましょう。1もん 20てん

① 1 cm が 2つ分のなが長さは、□ cm です。

② 1 cm が 8つ分のなが長さは、□ cm です。

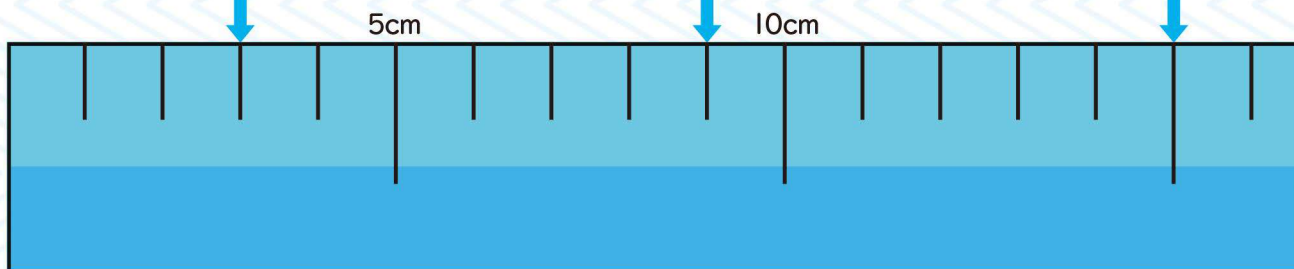
サシカマス
とつげきポケモン
タイプ ▶ みず
たかさ ▶ 0.5m
おもさ ▶ 1.0kg



たんいもか書こう!

2 下のものさしの左はしからのなが長さはそれぞれ何 cm ですか。1もん 20てん

① □ cm ② □ cm ③ □ cm



クリアした日

月 日



ヌマクローをつかまよう!

かさのたんい「dL」




てん
50点い上で「クリア! シール」をはれるよ!


はじめに ここを 読もう!

水などの かさを あらわす たんに、**デシリットル**が あります。
デシリットルは **dL**と 書きます。

か かつ
書き方



5dL



1 dL が 5つ分 で 5dL。

水などの かさは、
1デシリットルが いくつ分
あるかで あらわします。



ヌマクロー
めまうおポケモン
タイプみず・じめん
たかさ▶0.7m
おもさ▶28.0kg


たんいも
書こう!

1 □ に あてはまる かさを 答えましょう。1もん 25点


① 1 dL が 4つ分の かさは □ dL です。

② 1 dL が 7つ分の かさは □ です。

2 下の 入れものに入 水の かさは、1 dL の ますの 何はい分 で、
何 dL ですか。1もん 25点



1 dL ますの □ はい分 で
□ dL。



1 dL ますの □ はい分 で
□ dL。

クリアした日

月 日




わたしの よていひょう

●きそく正しく 生活しよう!

お休みの 日の 目ひょうや よていを 立てて 時計に はりで あらわそう!

[Blank box for writing the day of the week]

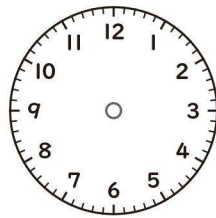
の わたしの よてい



午前

[] 時 [] 分に


おきます。



午後

[] 時 [] 分に


[]



午前

[] 時 [] 分に


[]



午後

[] 時 [] 分に


[]



午前

[] 時 [] 分に

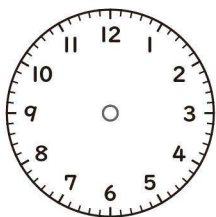
[]



午後

[] 時 [] 分に

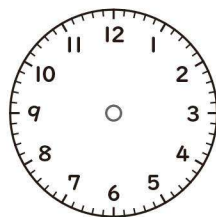
[]



午前

[] 時 [] 分に

[]



午後

[] 時 [] 分に

ねます。

ペン・ボールペンで 書いてください。
※このシートはホワイトボード仕様ではありません。

●おうちの方へ この予定表は、『ポケモンずかんドリル』のWEBサイトの、本書の「おためしサンプル」からダウンロードすることもできます。お子さんに何度もチャレンジさせてあげてください。

